



RÉGION ACADÉMIQUE
CORSE

MINISTÈRE
DE L'ÉDUCATION NATIONALE,
DE L'ENSEIGNEMENT SUPÉRIEUR
ET DE LA RECHERCHE


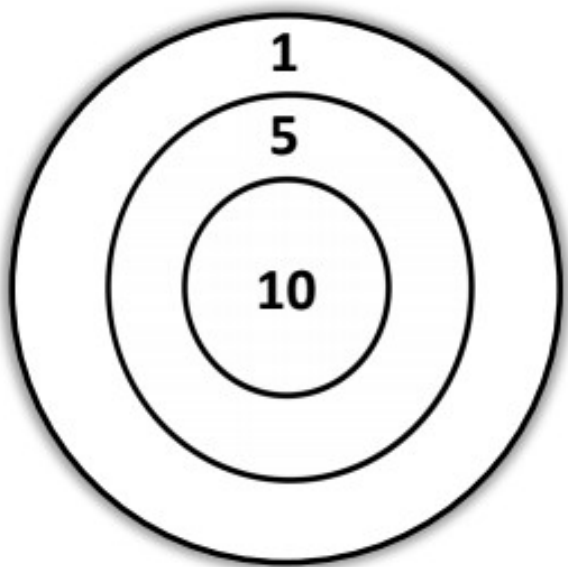
Ennima di u ghjornu

1a ennima CP

E sflezze



Dumenicu ghjoca à e sflezze
Hà lampatu 4 sflezze è hà avutu 26 ponti.
Dissegna e sflezze à a piazza bona ind'a sibula.





RÉGION ACADÉMIQUE
CORSE

MINISTÈRE
DE L'ÉDUCATION NATIONALE,
DE L'ENSEIGNEMENT SUPÉRIEUR
ET DE LA RECHERCHE

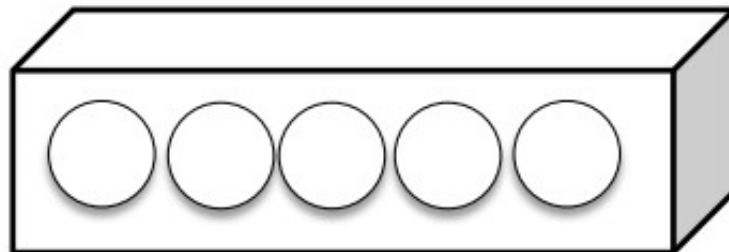
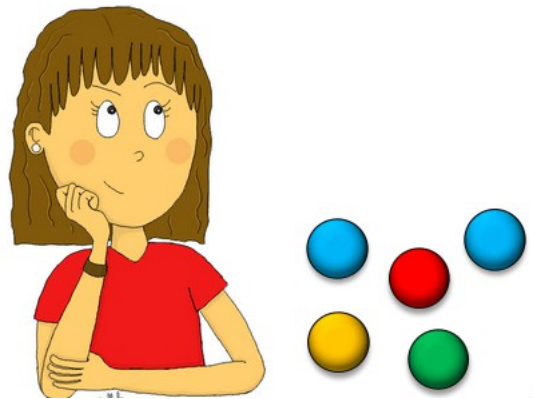


Aiuta à Ghjulia à assestà i sò 5 baddi.

Ci sò 2 baddi trà 2 baddi turchini.

Ci hè una badda rossa à a manca di a badda verde.

A badda ghjadda hè posta à a punta à a drita.



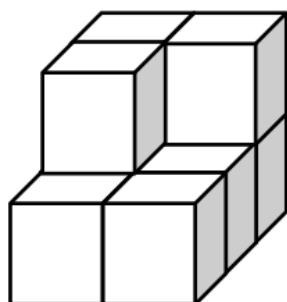


RÉGION ACADÉMIQUE
CORSE

MINISTÈRE
DE L'ÉDUCATION NATIONALE,
DE L'ENSEIGNEMENT SUPÉRIEUR
ET DE LA RECHERCHE



Saveriu ha fattu una figura cù i sò cubi.
Quantu cubi hà utilizatu ?



Saveriu hà utilizatu cubi.

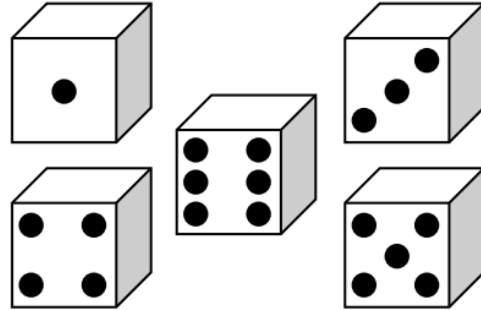


RÉGION ACADÉMIQUE
CORSE

MINISTÈRE
DE L'ÉDUCATION NATIONALE,
DE L'ENSEIGNEMENT SUPÉRIEUR
ET DE LA RECHERCHE

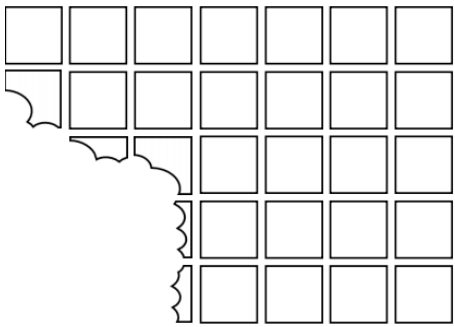


Andria hà lampatu 3 piripì, hà uttenutu 8 ponti.
Scegli i 3 boni piripì.





Francesca hà scrichjulatu a cicculata.
Quantu c'erani quadreddi in primu ?



C'erani quadreddi.



Aiuta à Maria pà truvà u pressu di ognu ughjettu.

$$\text{cone} + \text{cone} + \text{cone} = 9 \text{ €}$$

$$\text{cone} + \text{cube} + \text{sphere} = 10 \text{ €}$$

$$\text{cone} + \text{cube} = 5 \text{ €}$$






RÉGION ACADÉMIQUE
CORSE

MINISTÈRE
DE L'ÉDUCATION NATIONALE,
DE L'ENSEIGNEMENT SUPÉRIEUR
ET DE LA RECHERCHE



Aiuta à Petru à ritruvà a sò casa.

A sò casa hà 5 finstri, u sciaminè hè à a manca mà a porta hè à a drita.



A casa di Petru hè a



RÉGION ACADÉMIQUE
CORSE

MINISTÈRE
DE L'ÉDUCATION NATIONALE,
DE L'ENSEIGNEMENT SUPÉRIEUR
ET DE LA RECHERCHE



Retrova u migliore amicu di Pasquale à nantu à u ritrattu.

Ùn pienghje micca. Ùn stinza micca a lingua. Ùn hà micca spicchjetti. Si vede i sò denti,
ùn sò micca ppinzati.

Hà l'ochji aparti. Inchjerchjalu.



