

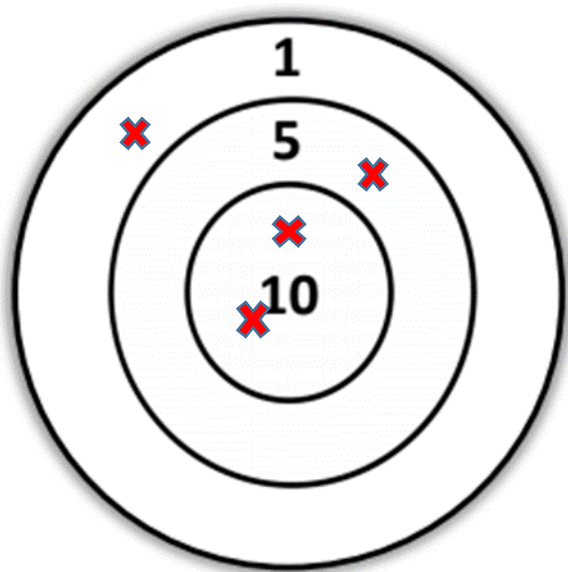
Enigme du jour
Enigme n°1 CP

Les fléchettes

Correction



Dumenicu s'entraîne au jeu de fléchettes.
Il a lancé 4 fléchettes et a obtenu 26 points.
Dessine les fléchettes à la bonne place dans la cible.



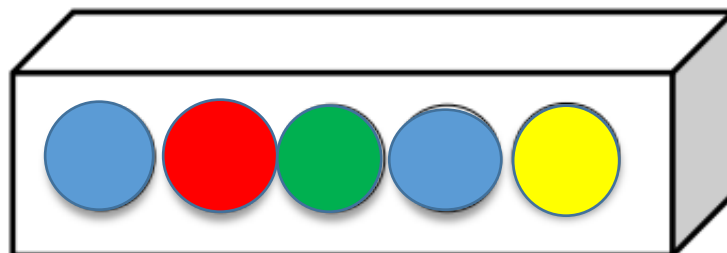

Enigme du jour

Enigme n°2 CP

Les balles
Correction



Aide Ghjulia à ranger ses 5 balles.
Il y a 2 balles entre 2 balles bleues.
Il y a une balle rouge à gauche de la balle verte.
La balle jaune est placée au bout à droite.



Enigme du jour

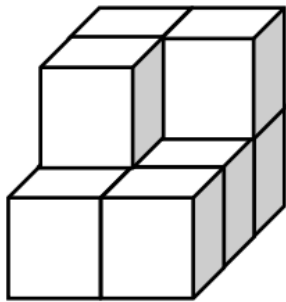
Enigme n°3 CP

Les cubes

Correction



Saveriu a fait une figure avec ses cubes.
Combien de cube a-t-il utilisés ?



Saveriu a utilisé **9** cubes.

Enigme du jour

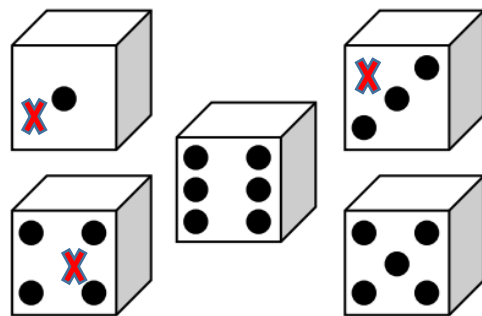
Enigme n°4 CP

Les dés

Correction



Andria a lancé 3 dés, il a obtenu 8 points.
Choisis les trois bons dés.



Enigme du jour

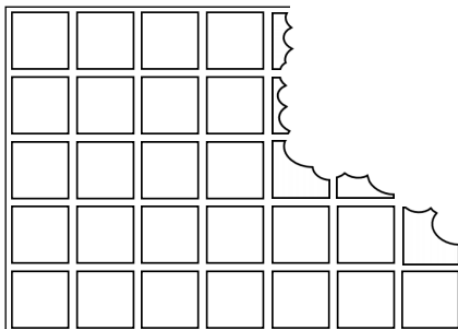
Enigme n°5 CP

Le chocolat

Correction



Francesca a croqué la tablette de chocolat.
Combien y avait-il de carrés dans cette tablette ?



Dans cette tablette, il y avait **35** carrés.

Enigme du jour

Enigme n°6 CP

Le compte est bon

Correction

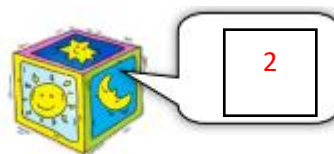



Aide Maria à trouver le prix de chaque objet.

$$\text{Objet 1} + \text{Objet 1} + \text{Objet 1} = 9 \text{ €}$$

$$\text{Objet 1} + \text{Objet 2} + \text{Objet 3} = 10 \text{ €}$$

$$\text{Objet 1} + \text{Objet 2} = 5 \text{ €}$$



Enigme du jour

Enigme n°7 CP

La maison de Petru


Correction



Aide Petru à trouver quelle est sa maison.

Sa maison a 5 fenêtres.

Sa cheminée est à gauche mais sa porte est à droite.



La maison de Petru est la **D**.

Enigme du jour

Enigme n°8 CP

La photo de classe

Correction



Retrouve le meilleur ami de Pasquale sur la photo.

Il ne pleure pas. Il ne tire pas la langue.

Il n'a pas de lunettes. On voit ses dents, elles ne sont pas pointues.

Il a les yeux ouverts. Entoure-le.

